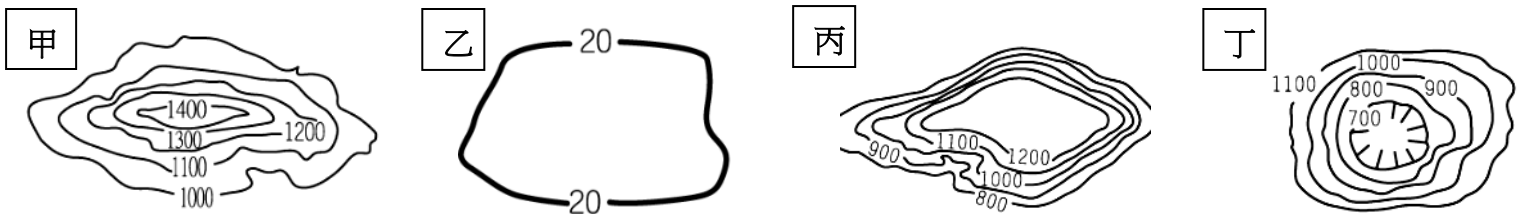


班級： 考號： 姓名：

◎地理部分：共 34 分（1~11 題每題 2 分， 12~15 題每題 3 分） ※注意題目關鍵字

(一) 選擇：(1~4 題每題 3 分， 5~10 題每題 2 分)

- 有「世界屋脊」之稱的青藏高原，平均高度超過 4000 公尺。請問：該地區主要是受到那兩個板塊間的擠壓所形成？
(甲)印澳板塊 (乙)菲律賓板塊 (丙)歐亞板塊 (丁)太平洋板塊
(A)甲乙 (B)甲丙 (C)乙丁 (D)丙丁。
- 中國第一大沙漠「塔克拉瑪干沙漠」，位於下列那一地形區之內？
(A)塔里木盆地 (B)青藏高原 (C)準噶爾盆地 (D)柴達木盆地。
- 中國五個少數民族自治區中，那一區所在的緯度最低？
(A)新疆維吾爾自治區 (B)西藏自治區 (C)寧夏回族自治區 (D)廣西壯族自治區。
- 中國境內各地依其地勢高低起伏而形成不同地形區，請從下列甲~丁圖中，選擇位於中國第二級階梯的兩種主要地形？



- (A)甲、乙 (B)乙、丙 (C)丙、丁 (D)丁、甲。

- 上課時，地理老師在黑板畫出中國某區域的地形剖面圖，

如右圖(一)，並點了四位同學發言，

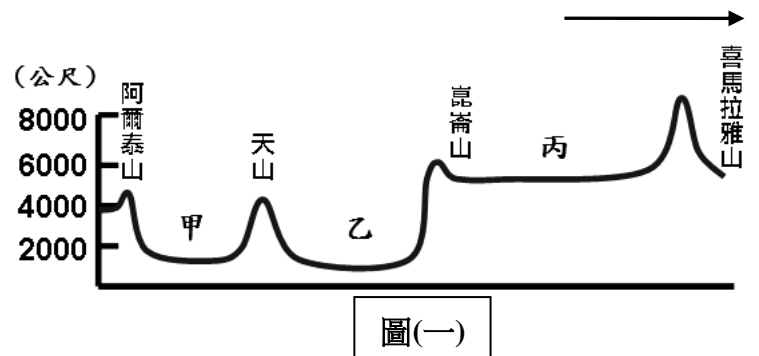
妮妮：「甲的形勢封閉，多沿懸崖峭壁，修建棧道」，

小新：「乙有大大小小的鹽湖，礦產豐富，譽為聚寶盆」，

風間：「丙有世界屋脊之稱，氣候高寒，多冰蝕湖」

阿呆：「依照方位來判斷，箭頭的方向應該是北方」，

請問正確的是？

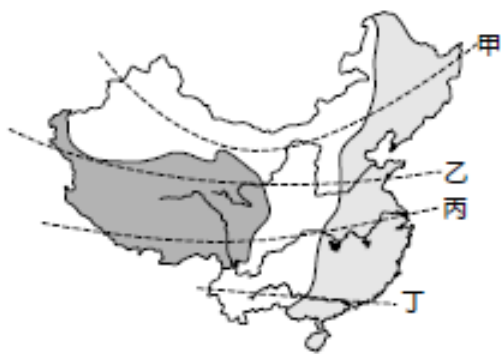


圖(一)

- (A)妮妮 (B)小新 (C)風間 (D)阿呆。

- 目前中國設有的四個直轄市之中，哪個直轄市在同一天裡看到太陽升起的时间最晚？

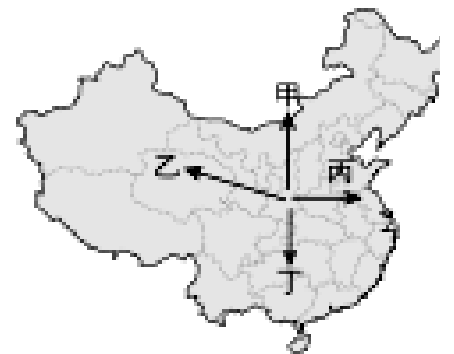
- (A)上海 (B)重慶 (C)北京 (D)天津。



圖(二)



圖(三)



圖(四)

- 參考圖(二)，請問丁剖面線沒有經過下列哪一個地形區？

- (A)嶺南丘陵 (B)雲貴高原 (C)珠江三角洲 (D)四川盆地。

- 圖(三)是中國四大高原分布圖，請問透過強力的冬季季風吹送下，下列那一地區形成了世界最大的黃土堆積區？

- (A)甲 (B)乙 (C)丙 (D)丁。

- 住在中國陝西省西安市的小丸子，預計和家人到蒙古旅遊，請問他們搭乘飛機應往圖(四)中哪一個方向飛行才正確？

- (A)甲 (B)乙 (C)丙 (D)丁。

- 家住臺北(120°E)的杰倫，早上 8 點打國際漫遊電話給在中國西藏旅遊的媽媽，沒想到媽媽還在睡夢中，因而被電話聲驚醒。請問：當時媽媽旅館房間牆上的時鐘，顯示的時間應為幾點？

- (A)早上 6 點 (B)早上 8 點 (C)早上 9 點 (D)早上 10 點。

班級： 考號： 姓名：

(二)題組：(12~15 題每題 3 分)

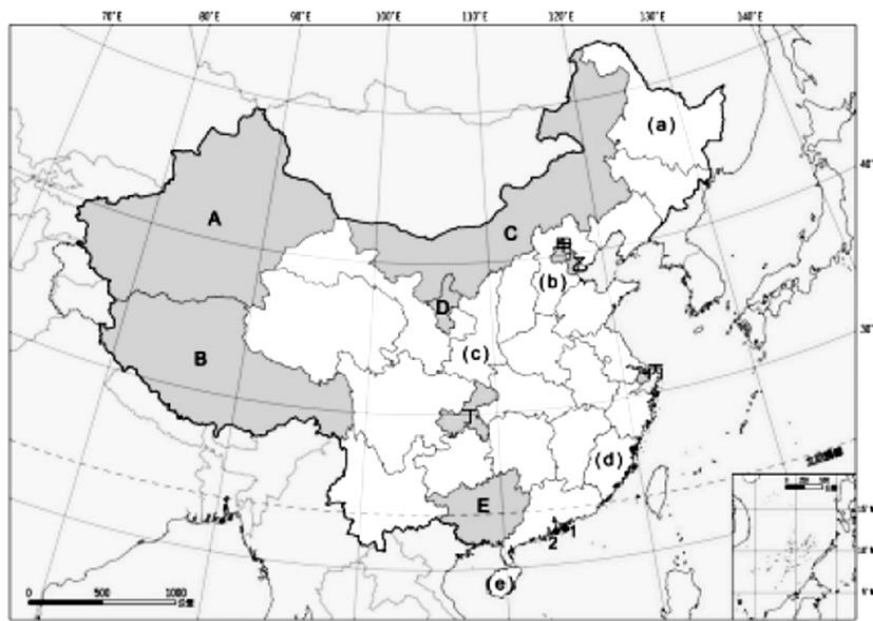
◎圖(六)為中國行政區圖，請回答下列問題 11~12：

11. 圖中 A~E 為「自治區」，其畫分依據主要與下列何者有關？

- (A)經濟發展 (B)人口密度
(C)面積大小 (D)族群文化。

12. 圖中 (a)~(e) 為「省」，請參考地圖選出完全正確的答案。

- (A) (a) 為吉林省，位於中國最大的東北平原。
(B) (b) 為山東省，屬於黃土高原的一部分。
(C) (c) 為陝西省，主要都市西安為古代絲路的起點。
(D) (d) 為福建省，境內的秦嶺是中國重要的地理分界。



圖(六)

◎新聞：< 928 佔領中環事件 >

*下文的○○代表中國某個行政區

自從○○在 1997 年由英國移交給中國之後，中國共產黨一直在各個領域擴大對○○的干預，包括對○○特首的更替和選舉。而在中國政府宣佈 2017 年的○○特首普選，其候選人是由北京政府決定與推舉，○○終於爆發了這項抗議活動。在這個以經濟和貿易為主的地區，民眾和學生開始包圍政府總部，發誓無限期靜坐，要求民主選舉。

13. 文章中○○地區指的是何地呢？

- (A)澳門 (B)香港 (C)廈門 (D)北京。

14. 承上題，○○曾為英國殖民地，由於被不同國家殖民，因此在經濟、文化、社會制度方面都與其他地區不同，在行政區的劃分上屬於何種行政區劃？

- (A)省 (B)直轄市 (C)自治區 (D)特別行政區。

15. 文章中，○○民眾的訴求是要求民主選舉首長，以下何地的首長等級與○○行政首長的行政等級不同？

- (A)廈門市市長 (B)西藏自治區區長 (C)廣東省省長 (D)澳門特首。

班級： 考號： 姓名：

八地解答

1	2	3	4	5	6	7	8	9	10
B	A	D	C	C	B	D	C	A	B
1 1	1 2	1 3	1 4	1 5					
D	C	B	D	A					