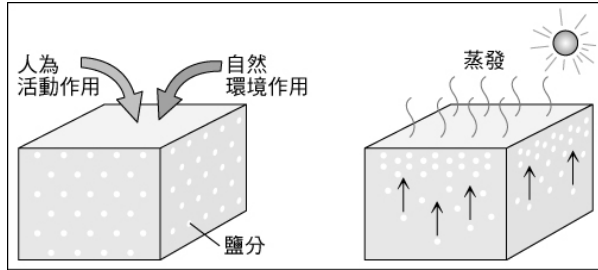


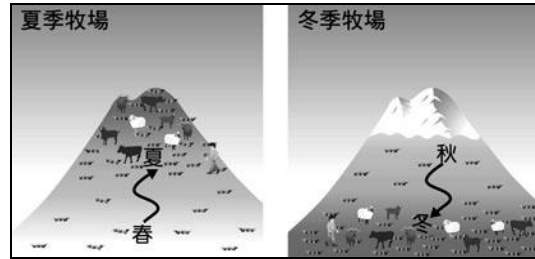
班級： 考號： 姓名：

1~11題每題二分，12~15題每題三分，合計三十四分

- 1.圖(一)是中國某項環境問題形成過程的示意圖，此問題對於當地農業耕作十分不利。圖中鹽分的移動與下列哪一種人為活動作用最有關係？ (A)過度放牧 (B)不當灌溉 (C)大量施肥 (D)圍湖造田。

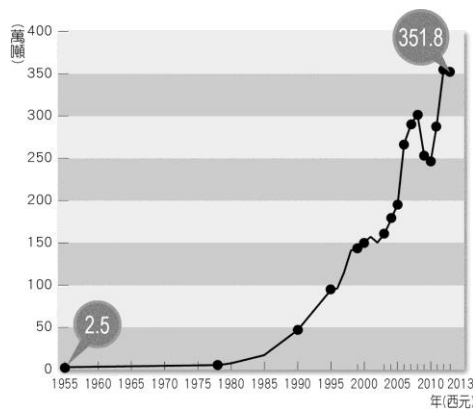


圖(一)

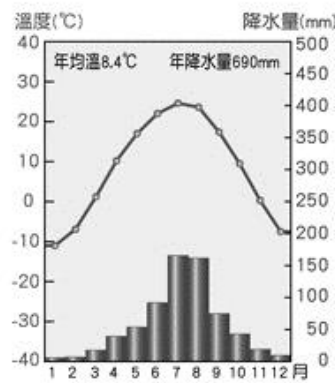


圖(二)

- 2.圖(二)為畜牧方式的一種。請問：這種畜牧方式主要分布於哪個地區？
 (A)黃土高原 (B)新疆沙漠 (C)內蒙古高原 (D)青藏高原。
 3.圖(三)為新疆維吾爾自治區的棉花產量變化圖。下列何者是使其產量逐年提高的主因？
 (A)交通系統改善 (B)農業人口增加 (C)農業技術進步 (D)市場需求大增。

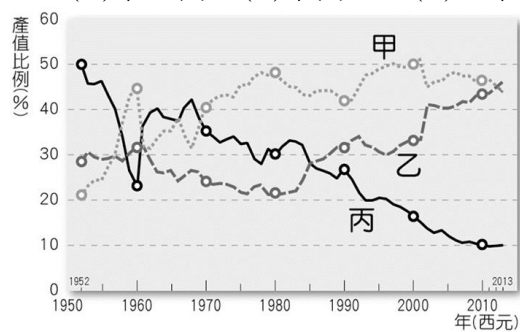


圖(三)



圖(四)

- 4.圖(四)為中國某地的氣候圖。由圖中資料判斷，該地較不適合下列哪種農作物生長？
 (A)玉米 (B)甘蔗 (C)小麥 (D)甜菜。
 5.中國依據經濟發展程度的差異，將全國劃分為東部、中部與西部三大經濟帶，其中東部經濟帶為經濟發展的核心區。請問：下列哪個直轄市並非位於東部經濟帶？ (A)重慶市 (B)天津市 (C)北京市 (D)上海市。
 6.圖(五)為中國三級產業產值占 GDP 的比重變化圖。請由圖判斷，第一級、第二級、第三級產業的 GDP 分別為圖上的哪條曲線？ (A)甲乙丙 (B)甲丙乙 (C)乙甲丙 (D)丙甲乙。



圖(五)

- 7.西元 1974 年創立的富士康科技集團，在臺灣、日本、中國、東南亞及美洲、歐洲等地擁有數十家子公司，其中在中國就建有二十多個科技工業園區，是全球 3C(電腦、通訊、消費性電子)代工領域規模最大、成長最快的國際集團。西元 2010 年，該集團位在深圳的龍華廠區發生數起員工跳樓事件，引起世人注目，該集團連續兩波宣布員工加薪並計畫將工廠內遷，此對中國整體的經濟發展已產生不小的影響。請問富士康將工廠內遷，最主要是希望降低哪項成本的支出，以維持較好的利潤？ (A)薪資成本 (B)運輸成本 (C)原料成本 (D)設備成本。
 8.繼香港迪士尼樂園之後，上海迪士尼於西元 2015 年開業，這已經是中國境內第二座迪士尼樂園。請問：上海迪士尼樂園的成立，主要是看上中國的哪項優勢？ (A)進出口貿易盛 (B)勞工工資低廉 (C)面積大物產豐 (D)市場潛力龐大。
 9.中國水患發生的可能因素有：(甲)上游砍伐天然林 (乙)過度放牧 (丙)開闢梯田 (丁)中下游大舉圍湖造田。近年來，常在新聞報導中看到中國長江流域的居民，雨季時遭受水患之苦。造成長江流域水災加劇的主要原因為下列何者？ (A)甲乙 (B)甲丙 (C)甲丁 (D)丙丁。
 10.吐魯番窪地的艾丁湖目前已面臨乾涸的命運，湖泊面積愈來愈小。請問：下列何者是造成艾丁湖乾涸的主要原因？ (A)土地沙漠化 (B)過度引河水灌溉 (C)長江上游汙染嚴重 (D)居民圍湖造田。
 11.中國計畫在橫斷山脈興建大型水利設施，以便蓄水供應雲南地區的發展，但這項建設將可能引發與鄰近國家的衝突。請問：上述的鄰國大多位於下列哪個地區？ (A)阿拉伯半島 (B)印度半島 (C)中南半島 (D)朝鮮半島。

命題版本/範圍：

命題老師簽名：

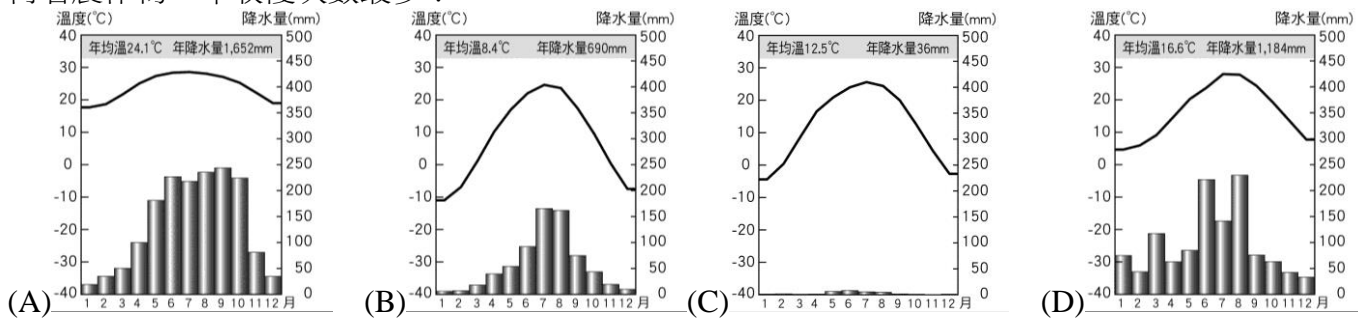
複檢老師簽名：

班級： 考號： 姓名：

12. 附圖為中國六大地區分布圖。圖中哪個地區雖然水資源總量不是最多，但因人口稀少，所以平均每人所擁有的水資源量居全國之冠？ (A)甲 (B)乙 (C)丙 (D)丁。



13. 中國自古以農立國，但南、北作物受到生長季節長短的差異，收穫次數不同。請問：下列四個氣候圖所代表的氣候區，何者農作物一年收穫次數最多？



14. 中國北部遭遇半世紀以來最嚴重的旱災，主要小麥產區有近半數因乾旱而發生農田龜裂、作物無法生長的現象，不僅損失超過十億人民幣，也影響全國的糧食供應。請問：上述的災害凸顯出下列哪項工程的急迫性？ (A)長江三峽水利工程 (B)退田還湖 (C)三北防護林 (D)南水北調。

15. 隨著沙漠化土地的持續擴張，近年來中國沙塵暴的頻率有提高的趨勢，為了解決此一問題，中國提出京津風沙源治理工程。在部分地區持續進行造林，以減少沙塵暴的沙源供應。請問：上述提及的造林地區不包括下列何地？ (A)新疆維吾爾自治區 (B)河北省 (C)山西省 (D)內蒙古自治區。

班級： 考號： 姓名：

八地答案

1	2	3	4	5
B	D	C	B	A
6	7	8	9	10
D	A	D	C	B
11	12	13	14	15
C	C	A	D	A